

Título:

Halloween | Primeiro Ciclo (1.º e 2.º anos)

Autor:

Rodolfo Duarte Pinto - Ciências da Computação | CSF Code.org Facilitator
Gabinete de Modernização das Tecnologias Educativas
Divisão de Tecnologias, Segurança e Infraestruturas
Direção de Serviços de Tecnologias e Ambientes Inovadores de Aprendizagem
Direção Regional de Educação

Contactos:

Rua D. João n.º 57, Quinta Olinda
9054 - 510 Funchal
Região Autónoma da Madeira
Telefone: 291 705 860
Email: rodolfodu7@edu.madeira.gov.pt

Funchal, outubro de 2023

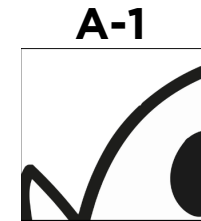
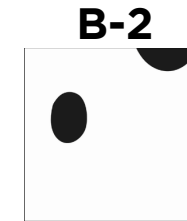
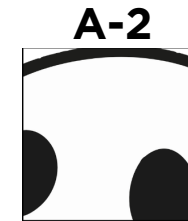
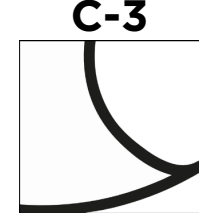
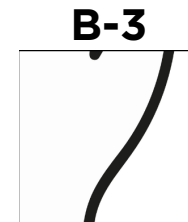
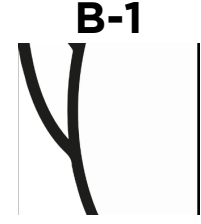
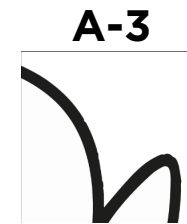


Ciências da Computação | Primeiro Ciclo (1.º e 2.º anos)



Decomposição

Qual será a figura mistério? Desenha de acordo com as coordenadas.

	1	2	3
A			
B			
C			



Completa os espaços.



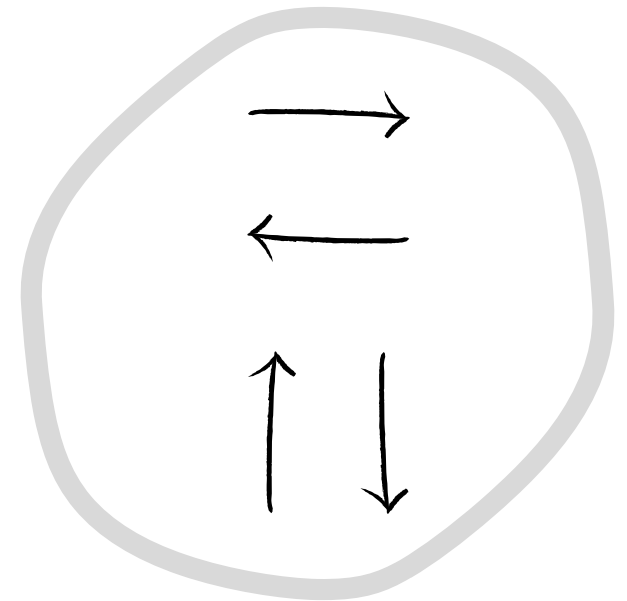

5	5	5	0	0	5	4	4	5	5	5	0	5	0	5	5
5	5	5	3	5	5	5	4	4	4	5	5	3	5	0	5
5	3	0	5	5	2	2	4	4	4	2	5	5	5	0	3
0	5	5	2	2	2	2	2	2	2	2	2	2	5	5	0
3	5	2	2	2	2	2	2	2	2	2	2	2	2	5	5
5	2	2	2	2	2	2	2	2	2	2	2	2	2	2	5
2	2	2	2	2	0	2	2	2	2	2	0	2	2	2	2
2	2	2	2	0	3	0	2	2	2	0	3	0	2	2	2
2	2	2	2	2	2	2	2	0	2	2	2	2	2	2	2
2	2	2	2	2	2	2	0	0	0	2	2	2	2	2	2
2	2	2	0	0	0	2	2	2	2	2	0	0	2	2	2
7	2	2	2	0	0	0	0	0	0	0	0	2	2	2	6
4	7	2	2	2	0	0	0	2	0	0	0	2	2	6	1
1	4	4	2	2	2	2	2	2	2	2	2	2	6	7	4
4	4	4	4	2	2	2	2	2	2	2	2	4	7	4	4
4	4	1	1	4	6	6	6	6	6	6	4	7	4	4	1

Teaching London Computing

Pinta as quadrículas de acordo com o seguinte código:

- 0 - preto
- 1 - vermelho
- 2 - laranja
- 3 - amarelo
- 4 - verde
- 5 - azul
- 6 - roxo
- 7 - castanho
- 8 - branco

**Ajuda a bruxa a chegar ao castelo.
Utiliza estas setas.**

[illegible]

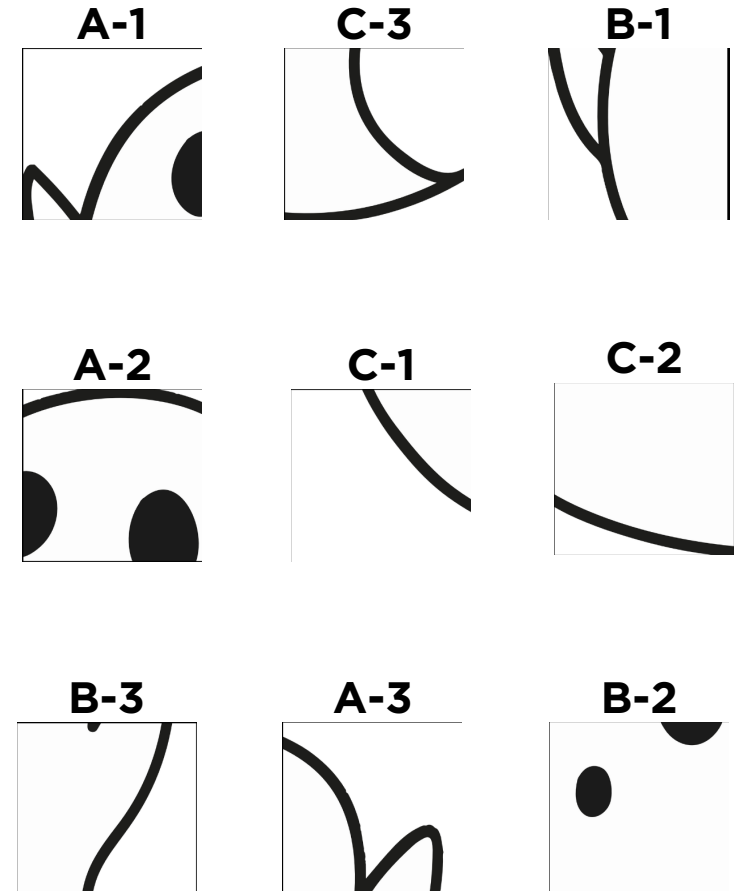
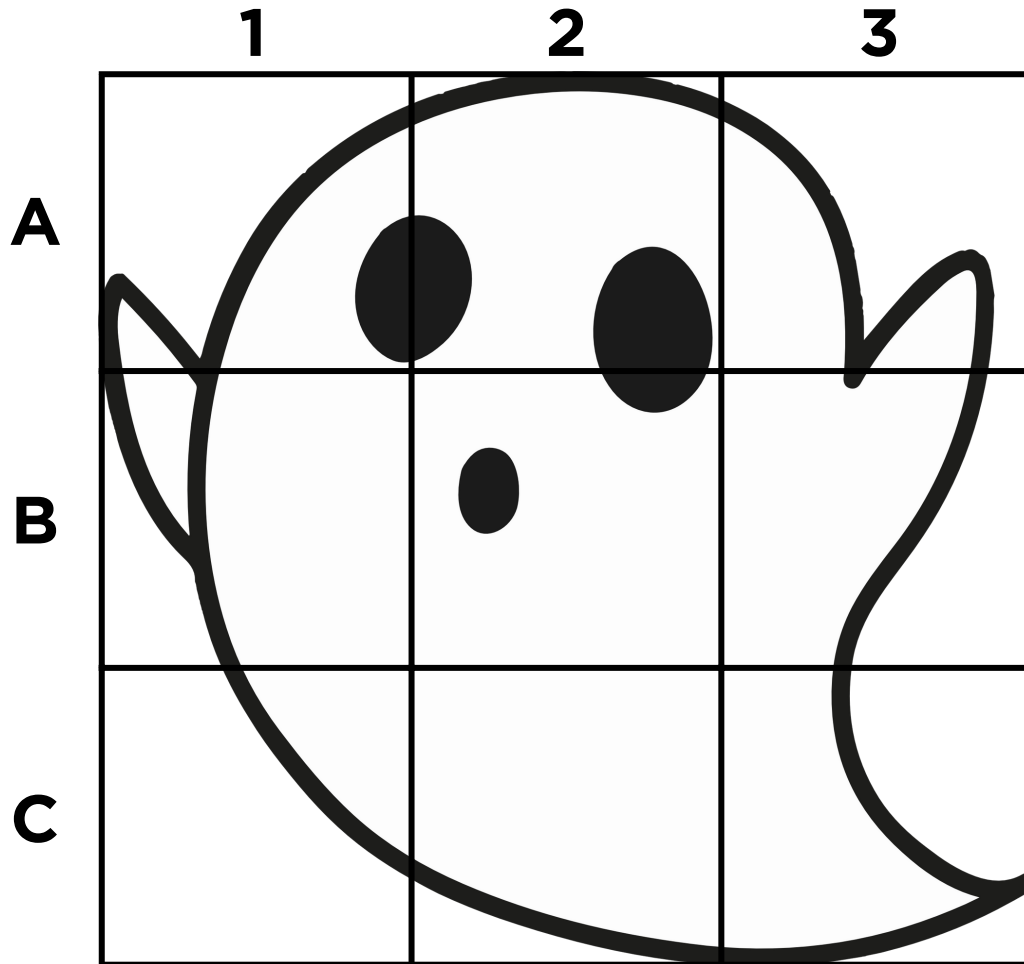


Este documento é de utilização gratuita ao abrigo de uma licença
Internacional Atribuição-NãoComercial-CompartilhaIgual
4.0 (CC BY-NC-SA 4.0)

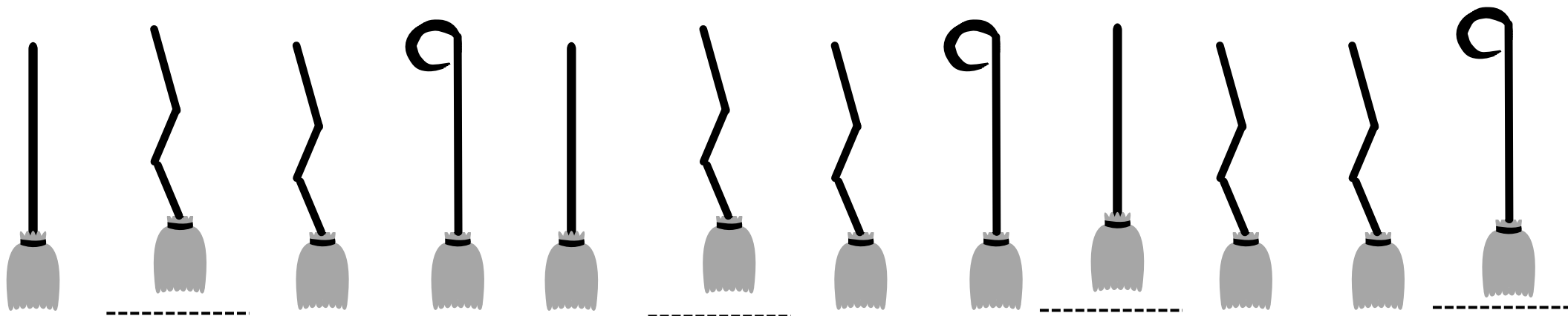

Se encontrar algum erro neste documento, agradecemos o seu feedback.
Entre em contacto connosco para que possamos fazer as devidas correções e melhorias


Soluções

Quantas figuras existem no castelo?



Completa os espaços.





Teaching London Computing

Pinta as quadrículas de acordo com o seguinte código:

- 0 - preto
- 1 - vermelho
- 2 - laranja
- 3 - amarelo
- 4 - verde
- 5 - azul
- 6 - roxo
- 7 - castanho
- 8 - branco

Ajuda a bruxa a chegar ao castelo.
Utiliza estas setas.

